

## '02 立命館大学

### 解説

(1) 加速度  $\alpha$  で運動する観測者には質量  $m$  の物体に、加速度と逆向きに大きさ  $m\alpha$  の慣性力がはたらくように見える。

(2) くさびとともに運動する観測者から見た物体 A にはたらく力は図 1 のようになる。したがって、斜面方向に対する運動方程式は斜面下向きを正として

$$m\beta = mgsin\theta + m\alpha\cos\theta$$

(3) (2) と同じ観測者が見ると、物体 A は斜面から離れずすべるので、斜面に垂直な方向では力がつりあって加速度 0 である。したがって、求める運動方程式(すなわちつりあいの式)は

$$m \times 0 = R + masin\theta - mgcos\theta$$

よって

$$0 = R + masin\theta - mgcos\theta$$

(4) 地上で静止している観測者から見たくさびにはたらく力は図 2 のようになる。したがって、水平方向の運動方程式は右向きを正として

$$M\alpha = Rsin\theta$$

よって 
$$R = \frac{M\alpha}{sin\theta}$$

(5) (4) の答えを (3) の答えに代入すると

$$0 = \frac{M\alpha}{sin\theta} + masin\theta - mgcos\theta$$

よって 
$$\alpha = \frac{mgsin\theta\cos\theta}{M + msin^2\theta}$$

(6) (5) の答えを (2) の答えに代入すると

$$m\beta = mgsin\theta + m \frac{mgsin\theta\cos\theta}{M + msin^2\theta} \cos\theta$$

よって 
$$\beta = \frac{Mgsin\theta + mgsin\theta(sin^2\theta + cos^2\theta)}{M + msin^2\theta}$$
  

$$= \frac{(M + m)gsin\theta}{M + msin^2\theta}$$

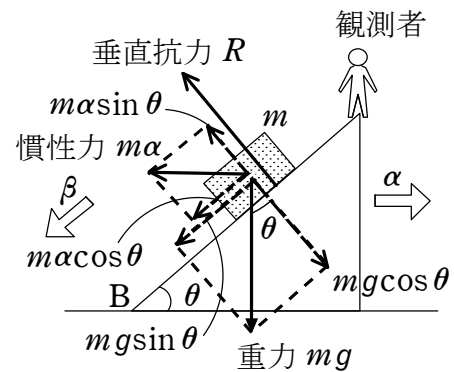


図 1

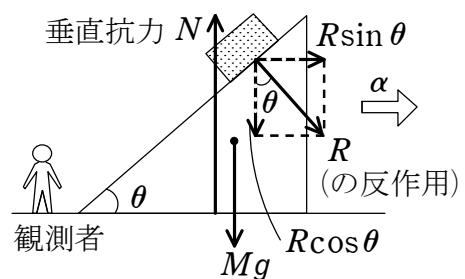


図 2

## '02 立命館大学

(7) 物体 A が最下点 B に達するまでの時間を  $t$  とすると、くさびとともに運動する観測者から見て、物体 A は初速度 0、加速度  $\beta$  で等加速度運動して距離  $l$  だけ移動するので、 $x = v_0 t + \frac{1}{2} a t^2$  の式より

$$l = 0 \times t + \frac{1}{2} \beta t^2$$

$$\text{よって } t^2 = \frac{2l}{\beta}$$

くさびは初速度 0、加速度  $\alpha$  で時間  $t$  の間加速されるので、求める距離は

$$\begin{aligned} x &= 0 \times t + \frac{1}{2} \alpha t^2 \\ &= \frac{1}{2} \alpha \cdot \frac{2l}{\beta} \\ &= \frac{1}{2} \times \frac{mg \sin \theta \cos \theta}{M + m \sin^2 \theta} \times \frac{2l(M + m \sin^2 \theta)}{(M + m)g \sin \theta} \\ &= \frac{ml \cos \theta}{M + m} \end{aligned}$$

### 別解

図 3 のように仮にくさびの重心が T の真下にあるとする(現実にはこの形状からはありえないが)。はじめ物体 A が T 点にあるとき、両者の共通重心点は T の真下にある。物体 A が斜面をすべり落ちた直後、物体 A とくさびの重心間は  $l \cos \theta$  だけ離れている。このときの両者の共通重心点は、運動前と変わらないはずだから、求める距離  $x$  は  $l \cos \theta$  の距離を質量の逆比  $M : m$  に内分したうちの  $m$  の分になる。

よって

$$x = l \cos \theta \times \frac{m}{M + m} = \frac{ml \cos \theta}{M + m}$$

### 講評

慣性力の問題。慣性力の問題としては基本的。慣性力の問題は別解のような考え方も有効。きちんと解けるようにしておきたい問題。

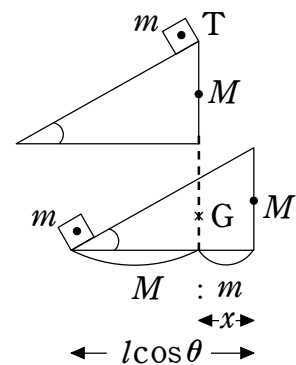


図 3