

(問題先頭の丸文字は問題を解ける学年を示し各学年で学ぶ項目は全てその学年に含みます。)

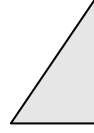
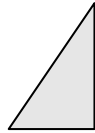
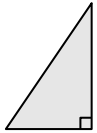
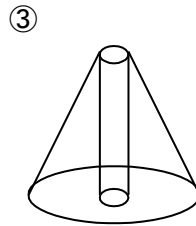
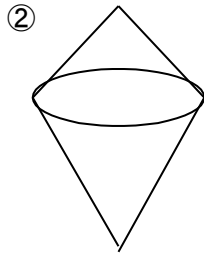
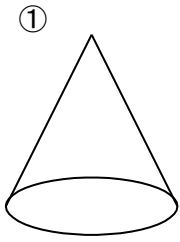
②：(問題が G：良い、**A：基本**、D：代表的、S：新規性、H：高水準、F：標準的)

★ (40点必須)、★★ (60点必須) ★★★ (75点必須)

★166a020704回転体 難易度3

下の①~③の立体は直角三角形を回転して作ったものである。

直角三角形の図に回転の軸にした直線mを書き入れよ。



問題の解き方と復習のポイント
解答

