

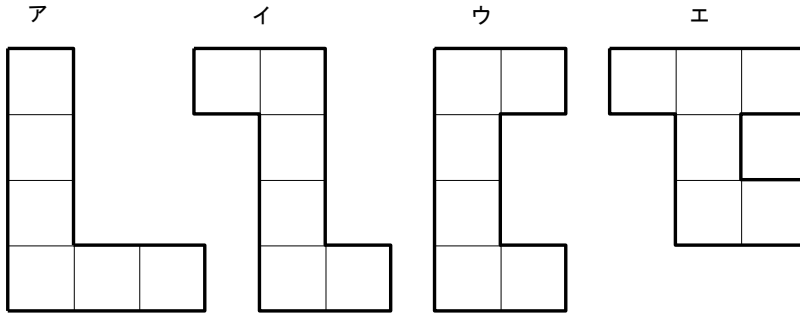
(問題先頭の丸文字は問題を解ける学年を示し各学年で学ぶ項目は全てその学年に含めます。)

① : (問題が G : 良い、A : 基本、D : 代表的、S : 新規性、H : 高水準、F : 標準的)

★ (40点必須)、★★ (60点必須) ★★★ (75点必須)

★164a0203325k o 7902tkz 難易度2

次のア～エのうち、立方体の展開図はどれか。



問題の解き方と復習のポイント

ポイント＝立方体の展開図は？

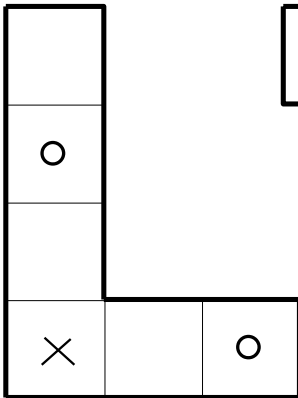
答 イ

ア. ×に対する平行な面が2つある。

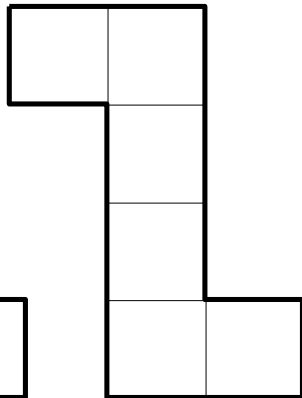
ウ. ○に対する平行な面がない。

エ. ×に対する平行な面が2つある。

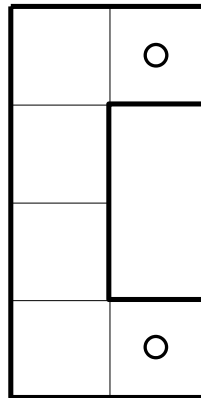
ア



イ



ウ



エ

